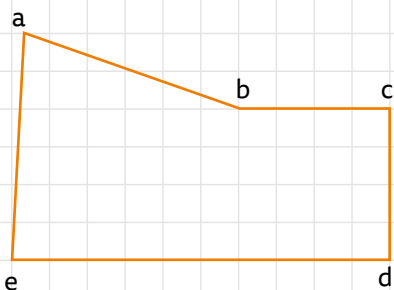


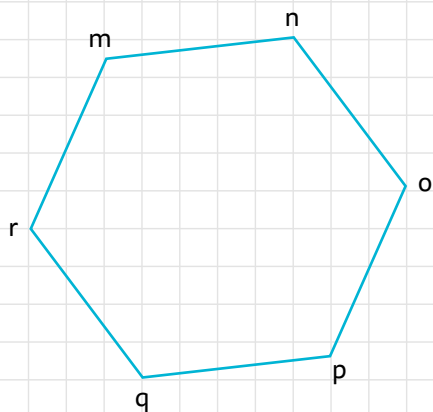
ACTIVIDADES COMPLEMENTARIAS

1. Medí los lados y completá con el perímetro de cada figura. Anotá los cálculos que consideres necesarios.

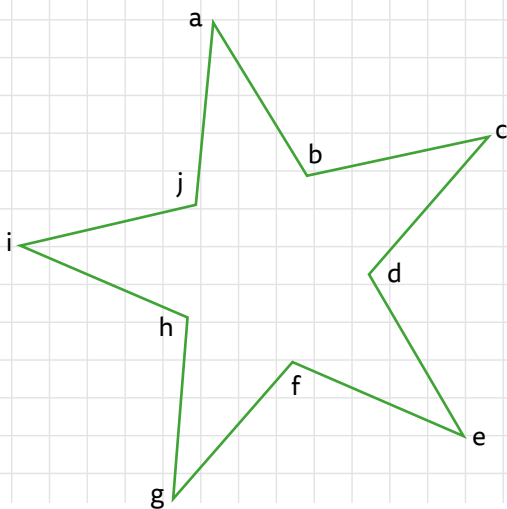
a. Perímetro: _____



b. Perímetro: _____



c. Perímetro: _____



ACTIVIDADES COMPLEMENTARIAS

2. Dibujá dos figuras cuyo perímetro sea de 20 cm.

