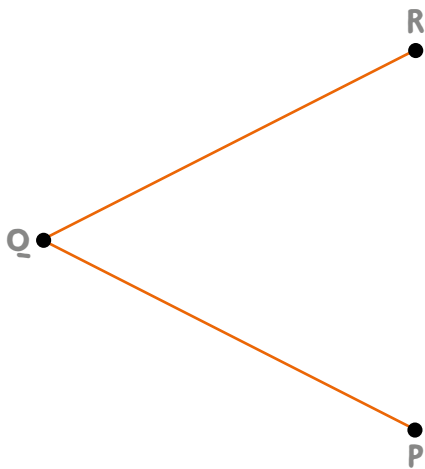




1. Completá la figura con regla no graduada y compás para obtener un rombo. Luego, respondé.



a. Trazá las diagonales del rombo. ¿Cuántas tiene?

b. Medí las diagonales. ¿Cuánto mide la diagonal mayor? ¿Y la menor?


c. ¿En qué posición se cortan las diagonales entre sí? ¿Se cortan en su punto medio?

2. Sin dibujarlos, indicá a qué cuadrilátero pertenecen las siguientes diagonales.

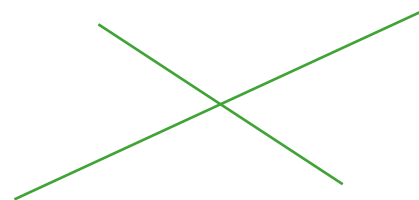


a.



b.




c.





3. Trazá las diagonales de cada cuadrilátero y marcá con una **X** las características que cumplen.

a.




Tienen igual longitud.
Se cortan en su punto medio.
Son perpendiculares.

b.



Tienen igual longitud.
Se cortan en su punto medio.
Son perpendiculares.

c.



Tienen igual longitud.
Se cortan en su punto medio.
Son perpendiculares.

