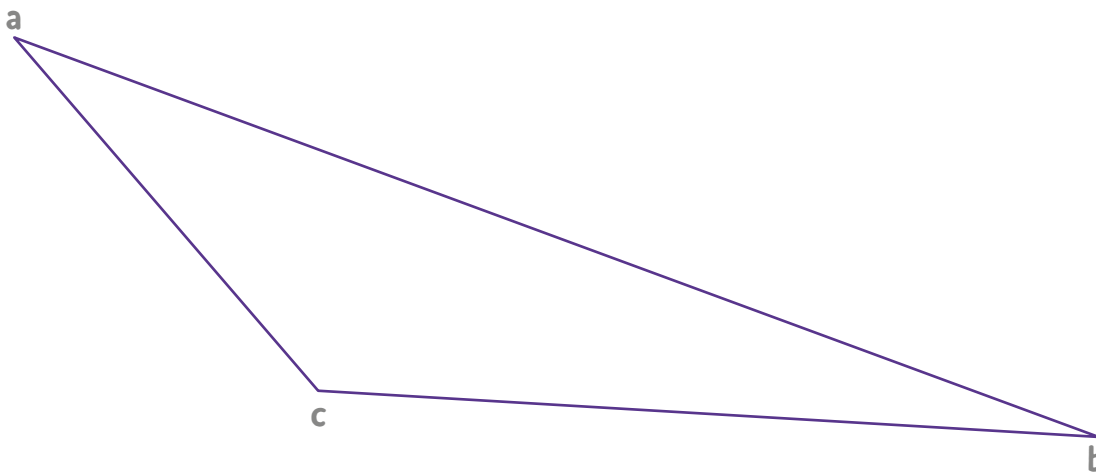


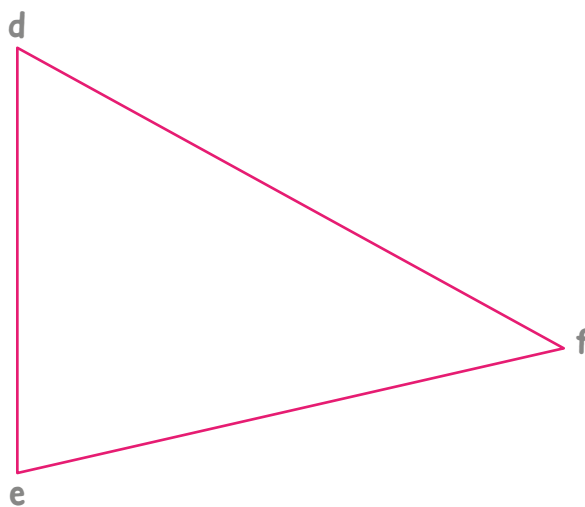


1. Trazá las alturas de los siguientes triángulos.

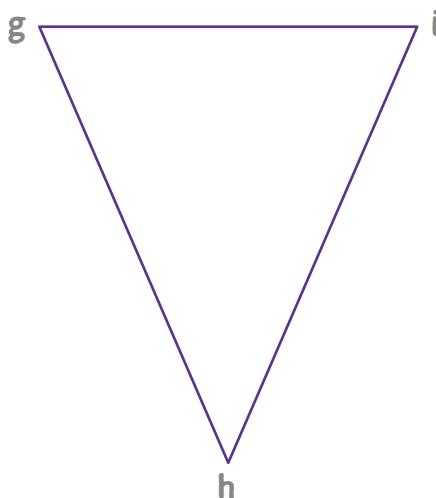
a.



b.



c.





2. Marcá con una **X** los enunciados verdaderos.

- a. Los triángulos rectángulos tienen una sola altura.
- b. Dos de las alturas de los triángulos rectángulos coinciden con sus lados.
- c. Todas las alturas de los triángulos acutángulos son iguales.
- d. Todos los triángulos tienen tres alturas.
- e. En los triángulos equiláteros, las alturas miden lo mismo.
- f. En los triángulos obtusángulos, dos de las alturas quedan afuera del triángulo.
- g. Las alturas de los triángulos escalenos siempre quedan dentro del triángulo.

