


¿MÁS GRANDE O MÁS CHICO?

PINTEN CON  EL NÚMERO MAYOR DE CADA GRUPO DE BOLILLAS.

34

53

43

61

64

16

81

18

98

79

49

47

27




29

79

25

85

92

PINTEN CON  LOS NÚMEROS MENORES QUE 39, CON  LOS QUE ESTÁN ENTRE 40 Y 60, Y CON  LOS MAYORES QUE 61.

33

51

54

46

47

54

10

79

4

48

43

42

29

69

89

62

18

56

37

72

99

74

75

99

5

64

65

92

84

85

38

55

24

82

95

73

19

45

58

49

12

63

36

59

41

52

44

57

28