



Calculando cuántos hay



Completen las tablas para responder las preguntas.

Los marcadores se venden en cajas de 6 unidades. Lucía compró 6 cajas. ¿Cuántos marcadores hay en total?

	1	2	3	4	5	6
	6					

Hay marcadores.

Si en cada paquete hay 100 hojas, ¿cuántos paquetes hay que comprar para reunir 600 hojas?

	1					
	100	200		400	500	

Hay que comprar paquetes.