

MÁS ACTIVIDADES

1. Ordená las siguientes medidas de menor a mayor.

0,65 kl

0,6 l

6.500 cl

$6 \frac{1}{2}$ l

2. Resolvé.


a. ¿Alcanza el contenido de estas tres botellas para llenar un bidón de 5 l?



b. Para reemplazar un zócalo de 1,75 m, ¿cuál o cuáles de estos listones conviene comprar? ¿Cuántos se necesitarán de cada uno?



c. Expresá en gramos la diferencia de peso entre estas bolsas de galletitas.

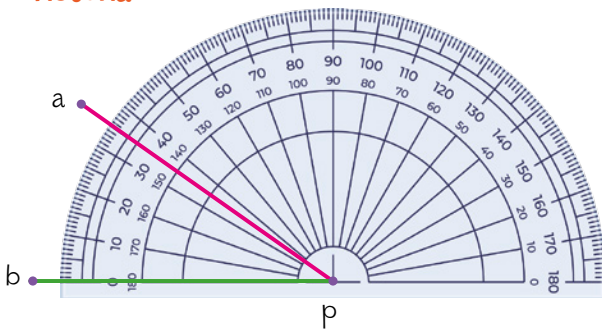


MÁS ACTIVIDADES

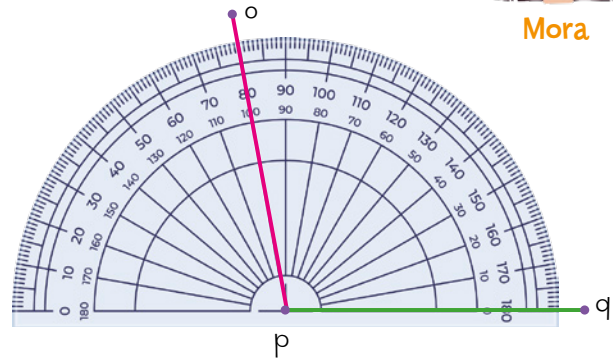
3. Observá los ángulos que dibujaron las chicas cuando la maestra pidió que marcaran un ángulo obtuso. Luego, respondé.



Victoria



Mora



¿Cuál de las chicas resolvió correctamente la actividad? ¿Por qué?
