





MÁS ACTIVIDADES

1. Uní con una flecha cada animal con su peso estimado.

- | | |
|---|--------|
| a. :  Un elefante. | 15 kg |
| b. :  Una hormiga. | 7 t |
| c. :  Un caballo. | 3 g |
| d. :  Un perro. | 582 kg |

2. Escribí el peso total en cada caso.

- a. 4 paquetes de 250 g de fideos:  kg.
- b. 2 paquetes de azúcar de $\frac{1}{2}$ kg y 2 de $\frac{1}{4}$ kg:  g.
- c. 3 paquetes de $\frac{1}{4}$ kg de galletitas y 3 paquetes de 250 g:  kg.
- d. 2 paquetes de 250 g de manteca y 4 paquetes de $\frac{1}{2}$ kg de arroz:  g.

3. Resolvé las siguientes situaciones teniendo en cuenta que cada sobre de sal contiene 5 g. Explicá cómo pensaste cada una.

a. ¿Cuántos sobres de sal son necesarios para tener $\frac{1}{2}$ kg?

b. ¿Cuántos sobres de sal se necesitan para tener 1.000 g?
