

MÁS ACTIVIDADES

1. Uní con una flecha cada expresión decimal con su lectura.

a.  0,158

Quince enteros, ocho décimos.

b.  15,8

Ciento cincuenta y ocho milésimos.

c.  1,58

Quince enteros, ocho centésimos.

d.  15,08

Diez enteros, cincuenta y ocho centésimos.

e.  1,058

Un entero, cincuenta y ocho centésimos.

f.  10,58

Un entero, cincuenta y ocho milésimos.

2. Escribí cómo se leen las siguientes expresiones decimales.

a. 118,425: _____

b. 70,1: _____

c. 96,475: _____


d. 129,08: _____


e. 5,306: _____


3. Escribí la expresión o la fracción decimal que corresponde.

a. $0,6 = \frac{\quad}{\quad}$

d. $5,23 = \frac{\quad}{\quad}$

b.  = $\frac{18}{10}$

e.  = $\frac{15}{100}$

c.  = $\frac{3}{10}$

f. $9,107 = \frac{\quad}{\quad}$